



# Η ΜΕΓΑΛΗ ΑΚΜΗ ΤΟΥ ΒΥΖΑΝΤΙΝΟΥ ΚΡΑΤΟΥΣ



Ποια είναι η σημασία των παρακάτω φράσεων:

εικονομαχία

εικονολατρία

αναστήλωση των εικόνων

Ποια ήταν η προσφορά της Πατριαρχικής Σχολής στα αρχαία ελληνικά γράμματα;

Με ποιες παλαιότερες εποχές μοιάζει η «χρυσή εποχή του Βυζαντίου»;

1.

2.

Πού προτιμούσαν να χτίζουν τα χωριά στο Βυζάντιο και γιατί;

Ποια ήταν η πρώτη φροντίδα των κατοίκων της υπαίθρου για τη διατροφή τους;



Ποια φράση είναι κρυμμένη στα κουτάκια; Για να την ανακαλύψεις βρες την απάντηση στους παρακάτω ορισμούς. Ύστερα τα γράμματα που αντιστοιχούν σε κάθε ορισμό συμπλήρωσέ τα στα παρακάτω κουτάκια.

18	8	16	12	14


2	17	11	18	14

5	11	16

19	16	20	4	13	5	9	11	16

Έτσι ονομάζονταν οι μεγάλες περιφέρειες της αυτοκρατορίας

1	2	3	4	5	4




Ο Λέοντας Γ' ο Ίσαυρος με το νόμο αυτό προστάτευσε την περιουσία των ελεύθερων γεωργών και κτηνοτρόφων.

6	2	7	8	6	9	10	11	12

13	11	3	11	12


Την Κυριακή της Ορθοδοξίας η Εκκλησία γιορτάζει την

4	13	4	12	5	14	15	7	12	14



5	7	13

2	9	10	11	13	7	13



Ο νέος ρυθμός στον οποίο χτίστηκαν πολλές εκκλησίες στα χρόνια των Μακεδόνων αυτοκρατόρων, ονομάστηκε

$\frac{19}{12} \frac{16}{5} \frac{20}{4} \frac{4}{16} \frac{13}{8} \frac{5}{11} \frac{9}{11} \frac{13}{12}$

Το κτίσμα έχει σχήμα  $\frac{12}{5} \frac{4}{16} \frac{8}{11} \frac{16}{16}$  και στο μέσο του

στηρίζεται ο  $\frac{5}{8} \frac{8}{11} \frac{16}{15} \frac{11}{12}$

**ΚΑΛΗ ΕΠΙΤΥΧΙΑ!!!**