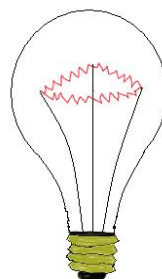



Φύλλο εργασίας

Όνομα:

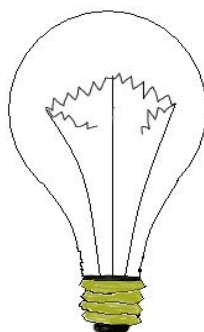
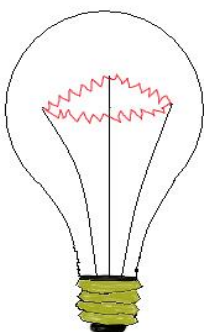
1. Σημείωσε τις επαφές σε καθένα από τα λαμπάκια της εικόνας (βάζοντας βελάκια).



2. Σημείωσε τους πόλους σε καθεμιά από τις μπαταρίες της εικόνας (βάζοντας + και -).



3. Μπορείς να σημειώσεις τη λάμπα που κήκε; (βάζοντας +)



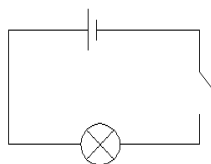
4. Στη διπλανή εικόνα βλέπεις ένα κλειστό ηλεκτρικό κύκλωμα. Σημείωσε τα μέρη από τα οποία αποτελείται.

-
-
-
-



5. Στην εικόνα που είναι παρακάτω βλέπεις το σκίτσο ενός κυκλώματος με σύμβολα. Σημείωσε ποια είναι αυτά.

- **Σύμβολο για το λαμπάκι** :
- **Σύμβολο για την μπαταρία** :
- **Σύμβολο για τα καλώδια** :



6. Γράψε με ποια υλικά μπορούμε να φτιάξουμε ένα απλό ηλεκτρικό κύκλωμα, περιέγραψε τον τρόπο συνδεσμολογίας.