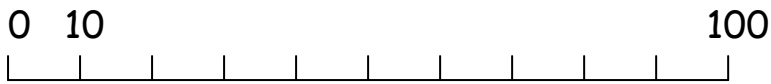


Φτιάχνω αριθμούς μέχρι το 100
και τους συγκρίνω

1. Συμπληρώνω τις δεκάδες.



2. Ποιους αριθμούς φανερώνουν τους γράφω με αριθμούς και με λέξεις.

	<u>Αριθμός</u>	<u>Ονομασία</u>	Δ M
	...	_____	Δ M
	...	_____	Δ M
	...	_____	Δ M

3. Συμπληρώνω τους αριθμούς που λείπουν.

$$\underline{\quad} + 10 = 30$$

$$\underline{\quad} + 20 = 50$$

$$\underline{\quad} + 10 = 60$$

$$\underline{\quad} + 40 = 60$$

$$\underline{\quad} + 50 = 70$$

$$60 + \underline{\quad} = 80$$

$$30 + \underline{\quad} = 50$$

$$30 + \underline{\quad} = 70$$

$$20 + \underline{\quad} = 60$$

$$80 + \underline{\quad} = 100$$

$$90 - \underline{\quad} = 80$$

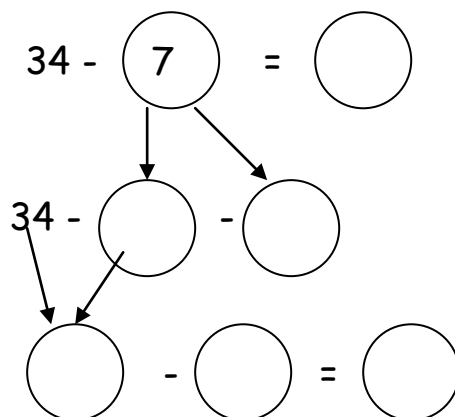
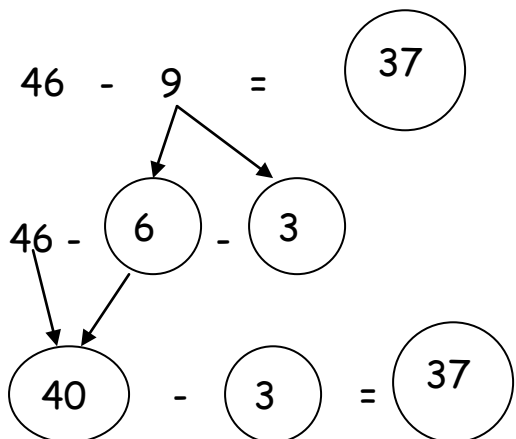
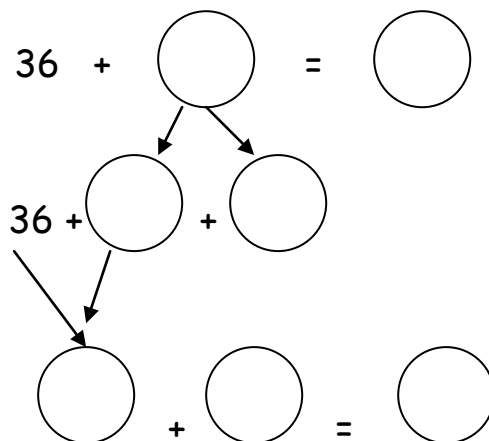
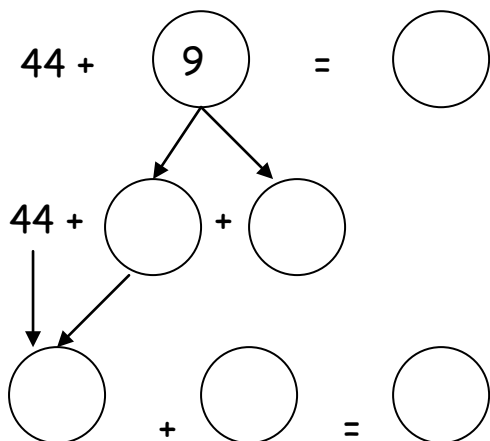
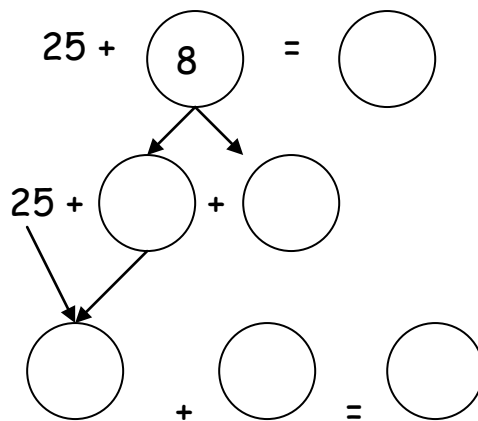
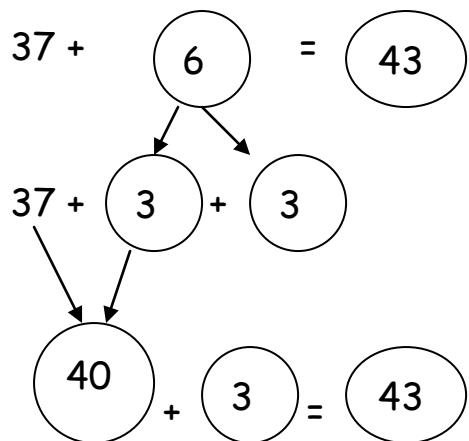
$$80 - \underline{\quad} = 60$$

$$70 - \underline{\quad} = 40$$

$$40 - \underline{\quad} = 20$$

$$20 - \underline{\quad} = 0$$

4. Λογαριάζω όπως στο παράδειγμα:



5. Η μαμά της Μαίρης έχει 3 δεκάδες μανταλάκια.
Πόσα μανταλάκια έχει η μαμά της Μαίρης;

Σκέφτομαι:

Τι πράξεις μπορώ να κάνω;

Θα κάνω

Λογαριάζω

$$\underline{\quad} \underline{\quad} \underline{\quad} = \bigcirc$$

Απάντηση: _____

6. Ποια κουτάκια έχουν αριθμό μικρότερο από τον αριθμό που είναι στον κύκλο; Χρωμάτισέ τα.

90	50	70	20	10	80	40	100	60	30
----	----	----	----	----	----	----	-----	----	----

60

50	90	100	30	80	60	40	20	70	10
----	----	-----	----	----	----	----	----	----	----

40

7. Συγκρίνω τους αριθμούς γράφοντας στο κυκλάκι > , < ή = .

34 ○ 43

23 ○ 34

43 ○ 40

43 ○ 23

32 ○ 43

40 ○ 34

32 ○ 23

43 ○ 34

34 ○ 23